



Република Србија

МИНИСТАРСТВО ПРОСВЕТЕ, НАУКЕ И ТЕХНОЛОШКОГ РАЗВОЈА
ЗАВОД ЗА ВРЕДНОВАЊЕ КВАЛИТЕТА ОБРАЗОВАЊА И ВАСПИТАЊА

ТЕСТ

ГЕОГРАФИЈА

1. Обој кружић у одговарајућем пољу тако што ћеш означити функције глобуса и географске карте.

	глобус	географска карта
Представља модел Земље.	<input type="radio"/>	<input type="radio"/>
Може приказати цео свет, али и само једну државу.	<input type="radio"/>	<input type="radio"/>
Приказује умањена растојања из природе.	<input type="radio"/>	<input type="radio"/>
Никада не деформише површине из природе.	<input type="radio"/>	<input type="radio"/>
Користи се за сналажење у природи.	<input type="radio"/>	<input type="radio"/>

2. Обој кружић испред тачне тврдње.

- Меридијани су замишљене полукружне линије које спајају Северни и Јужни пол.
- Меридијани су замишљене кружне линије које обавијају Земљу у правцу исток–запад.
- Меридијани су замишљене полукружне линије различите дужине.
- Меридијани су замишљене кружне линије које обавијају Земљу у правцу запад–исток.

3. Обој кружић у одговарајућем пољу тако што ћеш повезати наведене географске елементе карте и географске објекте.

	Физичкогеографски елементи карте	Друштвеногеографски елементи карте
река	<input type="radio"/>	<input type="radio"/>
пут	<input type="radio"/>	<input type="radio"/>
рудник	<input type="radio"/>	<input type="radio"/>
планина	<input type="radio"/>	<input type="radio"/>
насеље	<input type="radio"/>	<input type="radio"/>

4. Колико дана има преступна година?

Обој кружић испред тачног одговора.

- 365 дана
- 366 дана
- 364 дана
- 367 дана

5. Уколико је тврђење тачно, обој кружић у колони ТАЧНО, а уколико тврђење није тачно, обој кружић у колони НЕТАЧНО.

	ТАЧНО	НЕТАЧНО
1. Постоји пет топлотних појасева.	<input type="radio"/>	<input type="radio"/>
2. На планети је најдужа ноћ првог зимског дана.	<input type="radio"/>	<input type="radio"/>
3. Револуција Земље траје 24 часа.	<input type="radio"/>	<input type="radio"/>
4. Сунце се у току дана привидно креће од истока ка западу.	<input type="radio"/>	<input type="radio"/>

6. Обој кружић испред тачног одговора.

Водени омотач Земље назива се:

- атмосфера;
- биосфера;
- хидросфера;
- литосфера.

7. Обој кружић испод одговарајућег појма тако да тврдња буде тачна.

1. У Јужној Америци најзаступљенија религија је **ислам / хришћанство**.
2. Становници Апенинског полуострва већином припадају **романској / германској** групи народа.
3. Миграције представљају **кретање / старење** становништва.
4. Старосна пирамида која има правилан облик и широку основу приказује демографску слику државе која има **висок / низак** природни прираштај.

8. Уколико је тврђење тачно, обој кружић у колони ТАЧНО, а уколико тврђење није тачно, обој кружић у колони НЕТАЧНО.

	ТАЧНО	НЕТАЧНО
1. Европа се целом површином налази на северној Земљиној полулопти.	<input type="radio"/>	<input type="radio"/>
2. Европа се целом површином налази на источној Земљиној полулопти.	<input type="radio"/>	<input type="radio"/>
3. Европу на западу запљускује Атлантски океан.	<input type="radio"/>	<input type="radio"/>
4. Јужни део Европе излази на Средоземно море.	<input type="radio"/>	<input type="radio"/>

9. Обој кружић у одговарајућем пољу тако што ћеш повезати географске објекте са континентима на којима се они налазе.




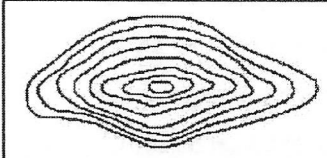

	Атлас	Пиринеји	Анди	Кордиљери
Северна Америка	<input type="radio"/>	<input type="radio"/>	<input type="radio"/>	<input type="radio"/>
Јужна Америка	<input type="radio"/>	<input type="radio"/>	<input type="radio"/>	<input type="radio"/>
Африка	<input type="radio"/>	<input type="radio"/>	<input type="radio"/>	<input type="radio"/>
Европа	<input type="radio"/>	<input type="radio"/>	<input type="radio"/>	<input type="radio"/>
Азија	<input type="radio"/>	<input type="radio"/>	<input type="radio"/>	<input type="radio"/>

10. Обој кружић испред тачног одговора.

Ако пловиш низводно реком Нил, онда путујеш у правцу:

- запада;
- истока;
- севера;
- југа.

11. Обој кружић у одговарајућем пољу тако што ћеш повезати шему изохипси са одговарајућим профилем терена.

			
	<input type="radio"/>	<input type="radio"/>	<input type="radio"/>
	<input type="radio"/>	<input type="radio"/>	<input type="radio"/>

12. Обој кружић у одговарајућем пољу тако што ћеш повезати небеска тела са њиховим описом.

	звезде	планете	комете	сателити
тамна небеска тела, састоје се од „главе“ и „репа“	<input type="radio"/>	<input type="radio"/>	<input type="radio"/>	<input type="radio"/>
хладна небеска тела, пратиоци планета	<input type="radio"/>	<input type="radio"/>	<input type="radio"/>	<input type="radio"/>
тамна небеска тела, светлост и топлоту добијају од Сунца	<input type="radio"/>	<input type="radio"/>	<input type="radio"/>	<input type="radio"/>
велика, усијана и гасовита небеска тела	<input type="radio"/>	<input type="radio"/>	<input type="radio"/>	<input type="radio"/>
мала, тамна небеска тела неправилног облика	<input type="radio"/>	<input type="radio"/>	<input type="radio"/>	<input type="radio"/>

13. Обој кружић у одговарајућем пољу тако што ћеш повезати наведене појмове са облицима рељефа.

	Еолски облик рељефа	Леднички облик рељефа	Крашки облик рељефа
Цирк	<input type="radio"/>	<input type="radio"/>	<input type="radio"/>
Вртача	<input type="radio"/>	<input type="radio"/>	<input type="radio"/>
Дина	<input type="radio"/>	<input type="radio"/>	<input type="radio"/>
Пећина	<input type="radio"/>	<input type="radio"/>	<input type="radio"/>
Валов	<input type="radio"/>	<input type="radio"/>	<input type="radio"/>

14. Како се зове најпознатија топла морска струја у Атлантском океану?

Обој кружић испред тачног одговора.

- Бенгуелска струја
 Перуанска (Хумболтова) струја
 Голфска струја
 Лабрадорска струја

15. Обој кружић испред тачног одговора.

Ако је у једној регији природни прираштај 5‰ то значи:

- да се број становника у тој регији смањује;
 да се на сваких 100 становника број повећа за 5 становника;
 да прети демографска експлозија;
 да се на сваких 1.000 становника број повећа за 5 становника.

16. Обој кружић у одговарајућем пољу тако што ћеш повезати државу са морем на које она излази.

	Словенија	Пољска	Румунија	Холандија
Црно море	<input type="radio"/>	<input type="radio"/>	<input type="radio"/>	<input type="radio"/>
Северно море	<input type="radio"/>	<input type="radio"/>	<input type="radio"/>	<input type="radio"/>
Јадранско море	<input type="radio"/>	<input type="radio"/>	<input type="radio"/>	<input type="radio"/>
Егејско море	<input type="radio"/>	<input type="radio"/>	<input type="radio"/>	<input type="radio"/>
Балтичко море	<input type="radio"/>	<input type="radio"/>	<input type="radio"/>	<input type="radio"/>

17. Обој кружић у одговарајућем пољу тако што ћеш повезати појмове са њиховим значењем.

	мореуз	залив	полуострво	острво
Тасманија	<input type="radio"/>	<input type="radio"/>	<input type="radio"/>	<input type="radio"/>
Баб ел Мандеб	<input type="radio"/>	<input type="radio"/>	<input type="radio"/>	<input type="radio"/>
Калифорнија	<input type="radio"/>	<input type="radio"/>	<input type="radio"/>	<input type="radio"/>
Карпентаријски	<input type="radio"/>	<input type="radio"/>	<input type="radio"/>	<input type="radio"/>

18. Имајући у виду повољне услове за развој пољопривреде, једно од наведених острва истиче се по великој густини насељености. Које је то острво?

Обој кружић испред тачног одговора.

- Исланд
 Тасманија
 Јава
 Огњена земља

19. Обој кружић у одговарајућем пољу тако што ћеш повезати планинске венце са континентима на којима се налазе.

	Европа	Азија	Африка	Јужна Америка	Северна Америка
Хималаји	<input type="radio"/>	<input type="radio"/>	<input type="radio"/>	<input type="radio"/>	<input type="radio"/>
Анди	<input type="radio"/>	<input type="radio"/>	<input type="radio"/>	<input type="radio"/>	<input type="radio"/>
Алпи	<input type="radio"/>	<input type="radio"/>	<input type="radio"/>	<input type="radio"/>	<input type="radio"/>
Апалачи	<input type="radio"/>	<input type="radio"/>	<input type="radio"/>	<input type="radio"/>	<input type="radio"/>
Атлас	<input type="radio"/>	<input type="radio"/>	<input type="radio"/>	<input type="radio"/>	<input type="radio"/>

20. Обој кружић у одговарајућем пољу тако што ћеш повезати европску луку са реком на чијем се ушћу она налази.

	Рона	Дунав	Рајна	Темза
Ротердам	<input type="radio"/>	<input type="radio"/>	<input type="radio"/>	<input type="radio"/>
Лондон	<input type="radio"/>	<input type="radio"/>	<input type="radio"/>	<input type="radio"/>
Марсељ	<input type="radio"/>	<input type="radio"/>	<input type="radio"/>	<input type="radio"/>